







MINTphilmal

Lösung Knobelaufgabe Mai 2024/2



und das Fladenbrot



 hat für einen Spieleabend ein rundes Fladenbrot gebacken. Am Spieleabend isst  ein Drittel des Fladenbrots. Sein Freund verspeist die Hälfte des restlichen Fladenbrots. Nach einer Weile hat  wieder Hunger und isst wieder ein Drittel des übrigen Fladenbrots. Auch sein Freund nimmt dann wieder die Hälfte des verbliebenen Brotes. Noch ein weiteres Mal isst  wieder ein Drittel und sein Freund die Hälfte des restlichen Fladenbrots.

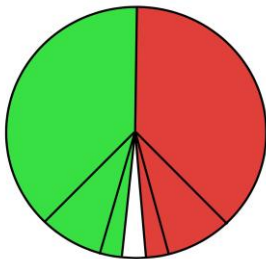
Wer hat am meisten Fladenbrot gegessen?

C) beide hatten gleich viel (Skizze dazu beim Tipp)



Tipp von  :

 = grün
Freund = rot



 hätte drei Mal so viel gegessen.

 = grün
Freund = rot

